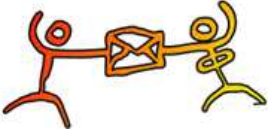


M@thM@tes

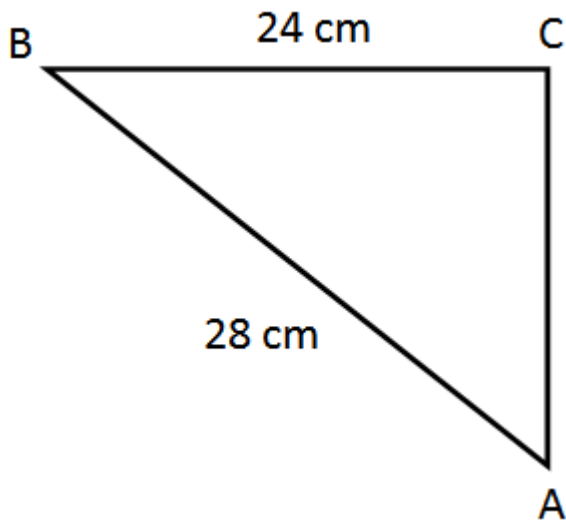


Oplossen van rechthoekige driehoeken

<http://www.algemath.be>

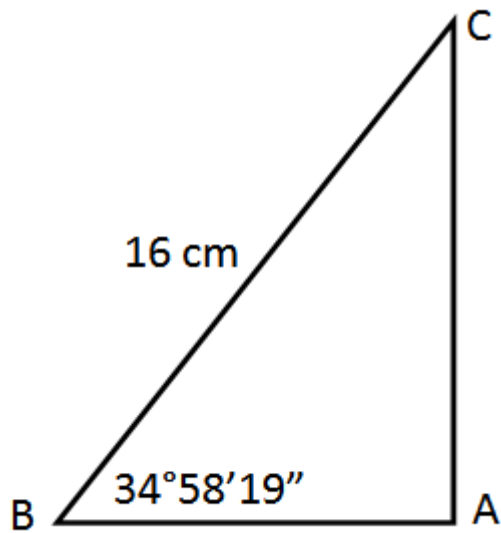
Opgave 1:

Bereken alle hoeken (1" nauwkeurig) en zijden (0,01 nauwkeurig).



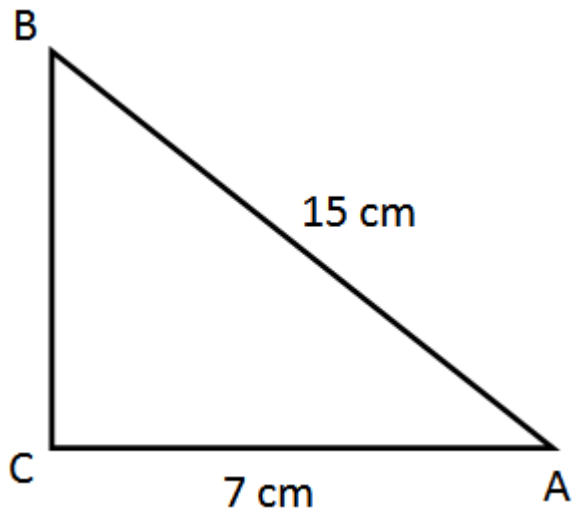
Opgave 2:

Bereken alle hoeken (1" nauwkeurig) en zijden (0,01 nauwkeurig).



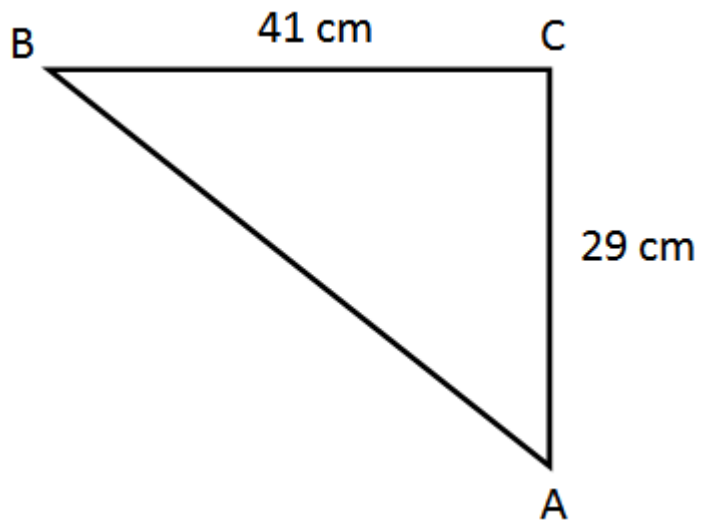
Opgave 3:

Bereken alle hoeken (1" nauwkeurig) en zijden (0,01 nauwkeurig).



Opgave 4:

Bereken alle hoeken (1" nauwkeurig) en zijden (0,01 nauwkeurig).



Opgave 5:

Bereken alle hoeken (1" nauwkeurig) en zijden (0,01 nauwkeurig).

